



SECRETARIA DE EDUCAÇÃO  
DIRETORIA EXECUTIVA DE GESTÃO PEDAGÓGICA  
GERÊNCIA DE ALFABETIZAÇÃO E LETRAMENTO, EDUCAÇÃO INFANTIL E ANOS INICIAIS

# BLOCO DE ATIVIDADES

## Anos Iniciais – 5º ano

ESCOLA MUNICIPAL \_\_\_\_\_

NOME DO(A) ESTUDANTE: \_\_\_\_\_

Olá, querido(a) estudante do 5º ano! Tudo bem com você? Estamos vivenciando um período bem diferente do que estamos acostumados, não é mesmo?

Diante da necessidade de ficarmos em isolamento social, para nos proteger do *Coronavírus*, temos que ficar em casa com a família e cuidar uns dos outros. Assim, estamos tendo a oportunidade de passar mais tempo juntos e fazer mais coisas em família.

Pensando nisso, criamos este Bloco de Atividades para que você também aproveite esse tempo em família e possa relembrar e aprender alguns assuntos que você viu na escola.

Por isso, o tema do Bloco 1 é **Família** e você encontrará várias e divertidas atividades de Língua Portuguesa, Ciências, História, Matemática, Arte e Geografia, como acontece na escola.

**Vamos lá!**

Para começar, vamos ler um texto bem legal que fala sobre a família.

## FAMÍLIA É TUDO IGUAL

*Família é tudo igual:  
cada uma é especial!*

*Tem pai, mãe, filho,  
tio, primo e avô.  
Mais aqueles que surgiram pelo caminho  
e a família também adotou.*

*Tem família com e sem  
Animal de estimação.  
Com e sem bebê,  
Tem família que não para de crescer!*

*Tem família que discute no almoço  
E faz as pazes no jantar.  
Tem família que se espalha,  
Mas se reúne para rezar.*

*Tem família de todo tipo  
E cada uma é especial!  
Porque família é tudo igual,  
Mas a minha é mais legal!*

Talita Rodrigues - 28/11/2018

Agora, responda às questões.

1 - O texto lido é

( ) uma carta.

( ) uma receita.

( ) um poema .

( ) um aviso.

2 – Qual o tema principal do texto que você leu? Justifique sua resposta.

---

---

3 – Retire do texto “FAMÍLIA É TUDO IGUAL” o que se pede e preencha o quadro a seguir.

<b>Membros da família que são citados no poema</b>	
<b>O terceiro verso da segunda estrofe</b>	
<b>A palavra que rima com <i>jantar</i></b>	
<b>Duas palavras com três sílabas</b>	
<b>O nome de quem escreveu o texto</b>	

4 – O que a autora quis dizer nos versos “**Toda família é igual, mas a minha é mais legal**”?

---

---

---

5 – Escreva os nomes dos membros de sua família que moram com você.

---

---

6 – Agora, coloque os nomes desses seus familiares em ordem alfabética.

---

---

---

---

---

---

---

---

---

---



Fonte: <https://br.pinterest.com/pin/463518986634279412/>

Agora é sua vez de produzir!

Que tal criar um texto sobre a sua família?

7 – Use as linhas a seguir para descrever como é a sua família, quantas pessoas fazem parte dela, o que gostam de fazer quando estão juntos, qual a comida preferida e outras questões que você achar importante para a sua produção. Depois, ilustre sua família mostrando o que mais gostam de fazer juntos. Não se esqueça de dar um título ao seu texto!

F





A família de Anita está aproveitando o tempo de isolamento social para jogar dominó. A disputa entre eles está bem acirrada, conforme mostra o quadro a seguir com os resultados do jogo em cada um dos dias de disputa.

PONTUAÇÃO – DOMINÓ					
DATAS	NOMES				
	Anita	Mamãe Cláudia	Vovô Paulo	Júlio	Rafael
27/03/2020	7	15	13	12	14
28/03/2020	13	11	19	7	6
31/03/2020	14	7	15	9	11
02/04/2020	9	6	17	16	9
03/04/2020	17	13	10	11	8

8 – De acordo com as informações do quadro acima, se as disputas terminassem hoje, quem ganharia o jogo?

**CÁLCULO:**



**RESPOSTA:**

---

---

---

---

9 – Quem conseguiu fazer menos pontos nos dois primeiros dias de disputa?

**CÁLCULO:**



**RESPOSTA:**

---

---

---

---

10 – Qual a diferença de pontos entre vovó Paulo e Anita?

**CÁLCULO:**



**RESPOSTA:**

---

---

---

---

11 – Tem algum jogo que você e sua família gostam de jogar juntos? Qual?

---

---

Sabrina está tentando decifrar o enigma que sua mãe lhe propôs para que possa descobrir a idade de sua vovó Matilde.

Observe na figura a seguir.

**ENIGMA DA IDADE DA VOVÓ  
MATILDE**

*Para decifrar o enigma e descobrir a idade da vovó Matilde é só calcular a idade de Sabrina (9 anos), mais a idade de Elton (5 anos) e de Lucas (3 anos) e multiplicar tudo por três.*



12 – Ajude Sabrina a decifrar a idade de sua vovó, fazendo os cálculos propostos por sua mãe.

**CÁLCULO:**



**RESPOSTA:**

---

---

---

---

---

Durante o isolamento social, juntar-se com os irmãos para fazer coisas juntos reforça os laços de amizade entre eles. É o que os irmãos Luana e Rafael estão fazendo. Eles se juntaram para fazer uma atividade de Ciências. Veja, a seguir, a página que eles estão lendo juntos.







FEVEREIRO 2016						
DOM	SEG	TER	QUA	QUI	SEX	SÁB
	1	2	3	4	5	6
7	8	9	10	11	12	13
14	15	16	17	18	19	20
21	22	23	24	25	26	27
28	29	← Ano Bissexto				

## OS MOVIMENTOS DA TERRA

Todos os dias, ao amanhecer, o Sol clareia o céu. Você já reparou que de manhã o Sol está numa posição e no fim da tarde, em outra posição?

A Terra não está parada no espaço. Ela realiza dois movimentos muito importantes: **o movimento de rotação e o movimento de translação.**

### Movimento de rotação

O movimento que a Terra faz em torno de um eixo imaginário, denominado eixo de rotação, chama-se **movimento de rotação.**

A Terra gira em torno do seu eixo de rotação, um pouco inclinado em relação ao plano de sua órbita. Esse movimento dura, aproximadamente, 24 horas, tendo como resultado o dia e a noite, ou seja, o movimento de rotação é o responsável pelo dia e a noite.

### Movimento de translação

Enquanto a Terra gira em torno de seu eixo de rotação, ela também gira em torno do Sol. O tempo necessário para a Terra dar uma volta completa em torno do Sol é de, aproximadamente, 365 dias, ou seja, um ano. Esse movimento da Terra ao redor do Sol é chamado de **translação.**

### Ano bissexto

Quando estudamos o movimento de translação da Terra descobrimos que ela leva, aproximadamente, 365 dias para dar uma volta completa ao redor do Sol. O tempo exato dessa volta é 365 dias e aproximadamente 6 horas. Para efeito de acertos no calendário essas 6 horas são acumuladas e a cada quatro anos temos o total de 24 horas ( $6+6+6+6=24$  horas, ou seja, um dia). É por isso que de quatro em quatro anos o mês de fevereiro tem 29 dias. Quando isso ocorre, dá-se o nome de **ano bissexto.**

13 – A partir da leitura do texto “OS MOVIMENTOS DA TERRA”, responda às questões.

a) O que é o movimento de rotação?

---

---

---

b) O que é movimento de translação?

---

---

---

c) O dia e a noite são resultados de qual movimento da Terra?

---

d) Qual movimento da Terra ocorre em 365 dias?

---

e) Explique por que o ano de 2016 foi um ano bissexto.

---

---

---

A família de Clarice está aproveitando esse período de isolamento social para programar sua próxima viagem pelo Brasil. Eles consultaram um mapa do Brasil que apresenta os estados brasileiros divididos nas diferentes regiões. Observe a imagem.



### **BRASIL – ESTADOS E REGIÕES**

14 – Complete o quadro com a escolha de cada membro da família, seguindo as dicas que cada um apresentou.

	Informações do local	Estado escolhido
Tia Sônia	É o menor estado da Região Sul.	
Clarice	Faz divisa com Bahia, Sergipe e Pernambuco.	
Mamãe Rosa	Estado onde está localizado o Distrito Federal (DF).	
Serginho	Estado no Sudeste, banhado pelo mar e que faz divisa com a Bahia.	
Yolanda	É o maior estado da região norte.	
Primo Anselmo	Estado que fica no extremo sul do Brasil.	
Papai Lucas	Estado da Região Centro-Oeste que tem 'sul' no nome.	

Você gosta de ver fotos de família?

Peça para ver as fotos de sua família e comece a analisar cada uma delas. Converse com seu responsável sobre as fotos que você viu e procure identificar, entre as pessoas que aparecem nas fotos, o grau de parentesco que elas têm com você.

Você também pode perguntar sobre alguns familiares que não aparecem nas fotos, mas que você tem a curiosidade de conhecer.

15 – Agora, use as linhas a seguir para registrar tudo que você descobriu ao analisar as fotos de sua família.

---

---

---

---

---

---

---

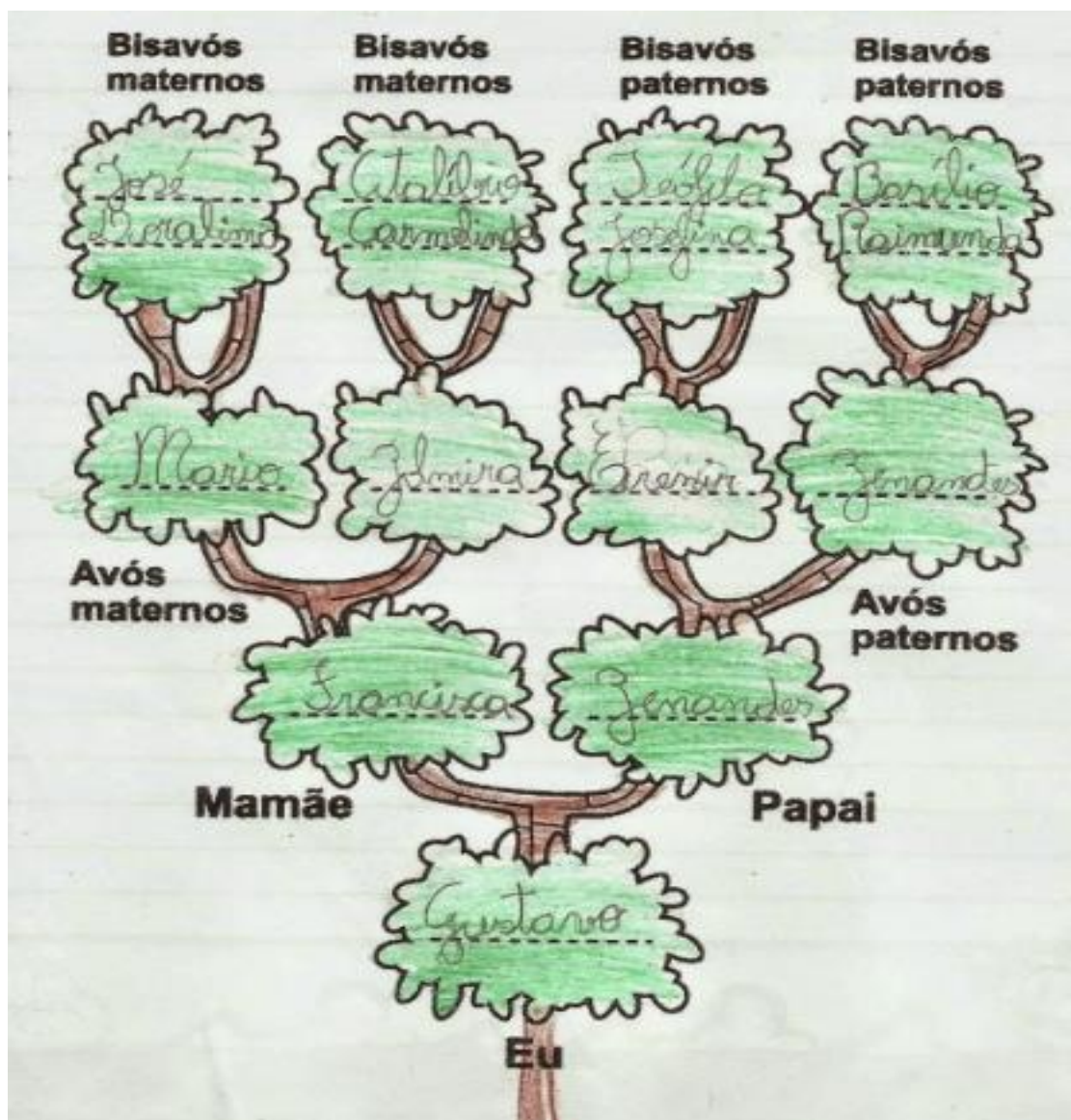
Falando em fotos de família, você sabe o que é uma **ÁRVORE GENEALÓGICA**? Vamos descobrir!

“A árvore genealógica é uma representação das pessoas que tiveram participação na existência de uma pessoa ou família, ou seja, é o histórico que levanta dados sobre os ancestrais\* dos mesmos de forma que fiquem conhecidas as conexões estabelecidas entre esses”.

Fonte: <https://mundoeducacao.bol.uol.com.br/curiosidades/arvore-genealogica.htm>

\*ancestrais: são nossos antepassados.

A professora de Gustavo solicitou que ele construísse a árvore genealógica de sua família. Ao terminar a atividade proposta pela professora, Gustavo obteve a figura abaixo.



16 – Observando a árvore genealógica de Gustavo, responda.

a) Quais os nomes dos avós maternos de Gustavo?

---

---

b) Como se chamam os bisavós paternos de Gustavo?

---

---

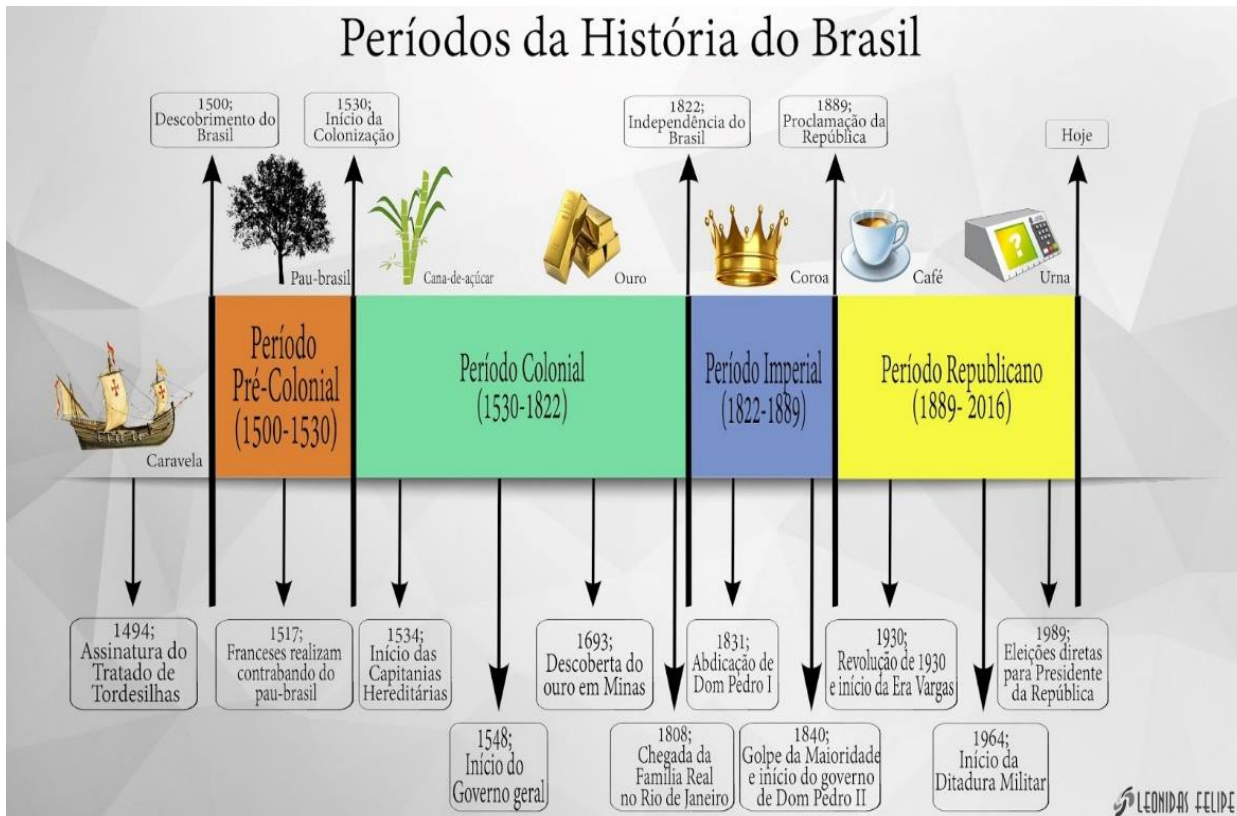
## Agora é sua vez!

17 – Use o espaço abaixo para construir a **árvore genealógica da sua família**. Você pode pedir a ajuda de alguém da sua família. Capriche na sua produção!



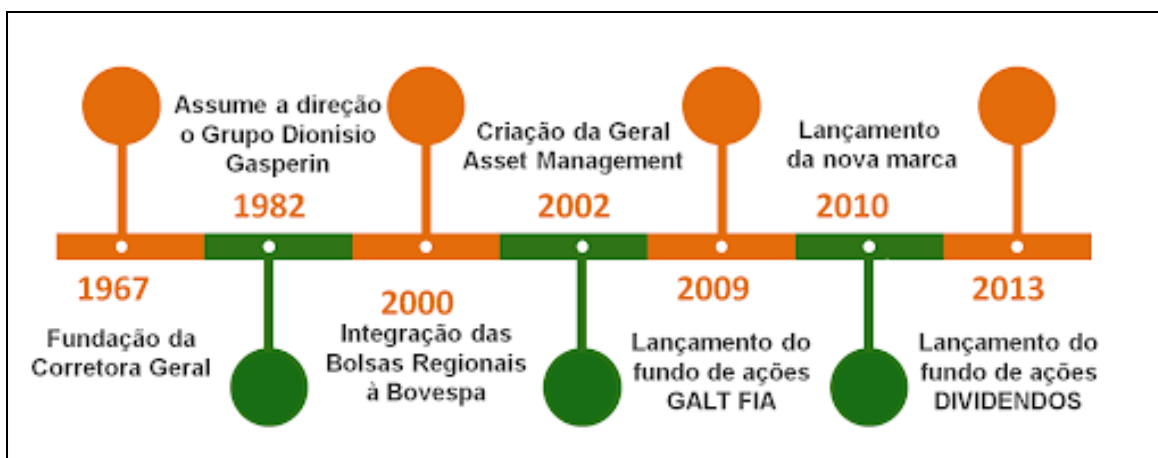
Além da árvore genealógica, que representa as pessoas que fazem parte da nossa família, podemos representar também fatos importantes da nossa vida. E fazemos isso por meio de uma **linha do tempo**.

Veja abaixo alguns exemplos de linha do tempo.



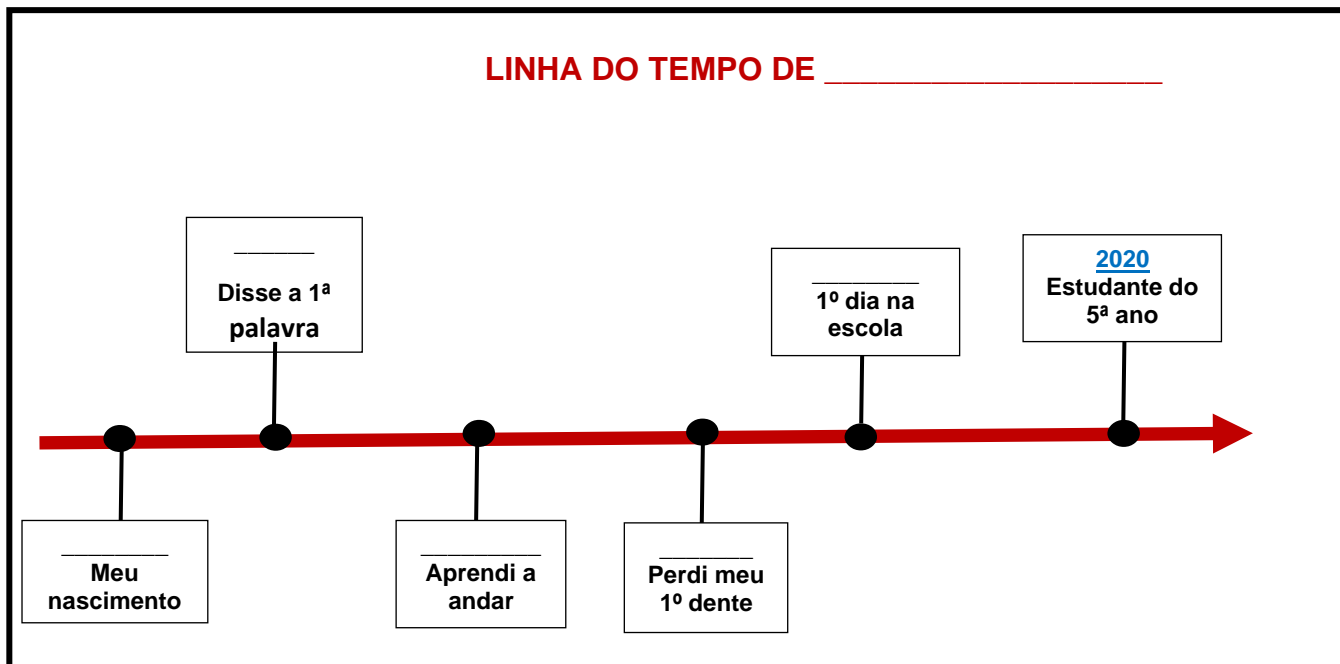
Fonte: <http://leonidasfelipe.blogspot.com/2015/11/mapa-mental-periodos-da-historia-do-brasil.html>

### Linha do tempo da empresa Geral Investimentos



Fonte: <http://www.geralinvestimentos.com.br/a-empresa/linha-do-tempo-geral-finalizada/>

Vamos construir uma linha do tempo com alguns fatos importantes da sua vida?  
18 – Converse com seu responsável e registre o ano em que aconteceu cada um dos fatos importantes indicados na **sua linha do tempo**.



Paloma recebeu uma mensagem de WhatsApp de sua colega de classe, Marcele, com o desenho de um mapa do caminho de sua casa até a escola. Veja na figura.





19 – E você, consegue fazer o mapa de sua casa até sua escola? Use o espaço a seguir.




Pietro estava folheando uns livros de seu tio Antônio e encontrou uma imagem de autorretrato pintado por Vicent Van Gogh e algumas informações sobre esse famoso pintor, conforme demonstrado na imagem a seguir.



Que tal você realizar a mesma atividade realizada por Van Gogh e fazer seu autorretrato?

20 – Fique de frente a um espelho e experimente! Use lápis colorido e faça seu autorretrato no espaço a seguir. Não se esqueça de assinar, ou seja, escrever seu nome na produção!



Vamos nos divertir um pouco!

21 – Usando materiais recicláveis que existem em sua casa, produza um brinquedo com sua família e divirtam-se juntos!

# BRINQUEDOS COM MATERIAL RECICLÁVEL

## Vai e vem

Garrafa pet, barbante e argolas são os materiais necessários para fazer esse brinquedo. E se você quiser decorá-lo, utilize fitas adesivas coloridas.



## Bolicho

Chame a turma toda para entrar nessa brincadeira tão divertida que é o bolicho.



Esse é um brinquedo bem prático e rápido de se fazer. Decore com papéis coloridos para deixar ainda mais bonito!



## Castelo

Utilizando rolinhos de papel higiênico e papelão você constrói lindos castelos!

## Cofre

Para ensinar às crianças como economizar, é possível fazer um cofre de porquinho bem lindinho.



## Bilboqué

Por esse ser um brinquedo antigo, até os pais vão querer entrar na brincadeira.



Fonte: <https://www.revistaartesanato.com.br/brinquedos-com-material-reciclado/>

Escolha uma dessas sugestões (ou outras que você conhecer) e faça sua produção. Peça a ajuda de um adulto nessa atividade.

## **FICHA TÉCNICA DO BLOCO DE ATIVIDADES 01 – 5º ANO**

GERALDO JULIO DE MELLO FILHO  
**Prefeito do Recife**

LUCIANO SIQUEIRA  
**Vice-Prefeito**

BERNARDO JUAREZ D'ALMEIDA  
**Secretário de Educação**

ÁQUILA MELO  
**Diretora Executiva de Gestão Pedagógica**

ANA CRISTINA AVELLAR  
**Gerente de Alfabetização e Letramento, Educação Infantil e Anos Iniciais**

ANA VALÉRIA DE AGUIAR  
ELISÂNGELA SANTANA  
**Divisão de Anos Iniciais (DAI)**

### **PRODUÇÃO DAS ATIVIDADES**

Edilange Galvão, Etiane Valentim, Fabiana Melo, Joselma Oliveira, Márcia Cabral, Patrícia Fradique, Monica Beltrão, Sheyla Xavier de Arruda e Simone Teixeira.

### **REVISÃO DE TEXTO**

Alex José de Santana  
Ana Valéria de Aguiar  
Edna Maria Almeida de Oliveira Lima  
Edilange Galvão  
Elisângela Santana  
Izabella Maria Moreira Costa  
Monica Beltrão